

**ΕΠΑΝΑΛΗΠΤΙΚΕΣ ΠΑΝΕΛΛΑΔΙΚΕΣ ΕΞΕΤΑΣΕΙΣ**  
**Γ' ΤΑΞΗΣ ΗΜΕΡΗΣΙΟΥ ΚΑΙ Δ' ΤΑΞΗΣ ΕΣΠΕΡΙΝΟΥ ΓΕΝΙΚΟΥ ΛΥΚΕΙΟΥ**  
**ΠΕΜΠΤΗ 7 ΣΕΠΤΕΜΒΡΙΟΥ 2017 - ΕΞΕΤΑΖΟΜΕΝΟ ΜΑΘΗΜΑ:**  
**ΧΗΜΕΙΑ ΠΡΟΣΑΝΑΤΟΛΙΣΜΟΥ**  
**ΣΥΝΟΛΟ ΣΕΛΙΔΩΝ: ΕΞΙ (6)**

**ΘΕΜΑ Α**

Για τις προτάσεις **A1** έως και **A5** να γράψετε στο τετράδιό σας τον αριθμό της πρότασης και δίπλα το γράμμα που αντιστοιχεί στη σωστή επιλογή.

**A1.** Στη χημική αντίδραση  $C(s) + O_2(g) \longrightarrow CO_2(g)$

- α. Ο αριθμός οξειδωσης του C μειώνεται
- β. Ο αριθμός οξειδωσης του O αυξάνεται
- γ. Ο C δρα ως αναγωγικό
- δ. Το O δρα ως αναγωγικό.

**Μονάδες 5**

**A2.** Για το ηλεκτρονιακό νέφος ενός ατόμου, ο κύριος κβαντικός αριθμός  $n$  καθορίζει:

- α. το μέγεθος
- β. το σχήμα
- γ. την ιδιοστροφορμή
- δ. τον προσανατολισμό.

**Μονάδες 5**

**A3.** Σε ένα υδατικό διάλυμα  $NH_3$  0,1 M προστίθεται ορισμένη ποσότητα στερεού  $NH_4Cl$ , χωρίς μεταβολή όγκου και θερμοκρασίας· οπότε:

- α. αυξάνονται ο βαθμός ιοντισμού και το pH
- β. μειώνονται ο βαθμός ιοντισμού και το pH
- γ. αυξάνεται ο βαθμός ιοντισμού, ενώ το pH μειώνεται
- δ. μειώνεται ο βαθμός ιοντισμού, ενώ το pH αυξάνεται.

**Μονάδες 5**

**A4.** Ουδέτερο υδατικό διάλυμα είναι το διάλυμα του:

- α.  $CH_3COONa$
- β.  $NH_4Cl$
- γ.  $KCl$
- δ.  $CH_3NH_3Cl$ .

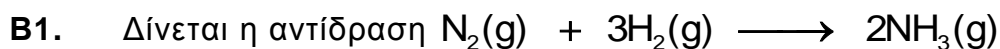
**Μονάδες 5**

**A5.** Στο άτομο του H, ακτινοβολία υψηλότερης συχνότητας εκπέμπεται από την μετάπτωση ηλεκτρονίων:

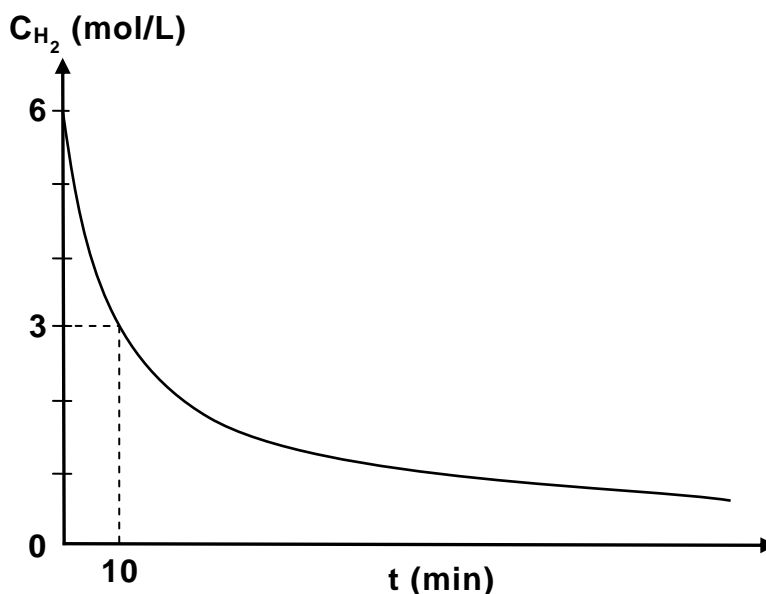
- α.  $5p \rightarrow 1s$
- β.  $4p \rightarrow 1s$
- γ.  $3p \rightarrow 1s$
- δ.  $6p \rightarrow 2s$

**Μονάδες 5**

**ΘΕΜΑ Β**



Η παρακάτω γραφική παράσταση απεικονίζει τη συγκέντρωση του  $\text{H}_2(\text{g})$ ,  $C_{\text{H}_2}$ , σε συνάρτηση με τον χρόνο, (t), κατά τη διάρκεια της αντίδρασης. Η αντίδραση λαμβάνει χώρα σε δοχείο σταθερού όγκου και υπό σταθερή θερμοκρασία.



- α. Να υπολογίσετε τη μέση ταχύτητα της αντίδρασης για το χρονικό διάστημα 0 έως 10 min. (μονάδες 4)
- β. Να υπολογίσετε τη συγκέντρωση της  $\text{NH}_3(\text{g})$  τη χρονική στιγμή  $t = 10$  min. (μονάδες 4)

**Μονάδες 8**

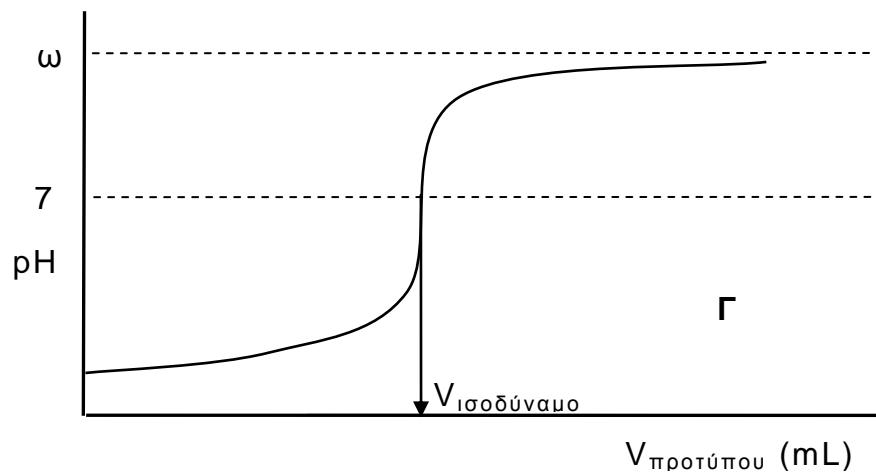
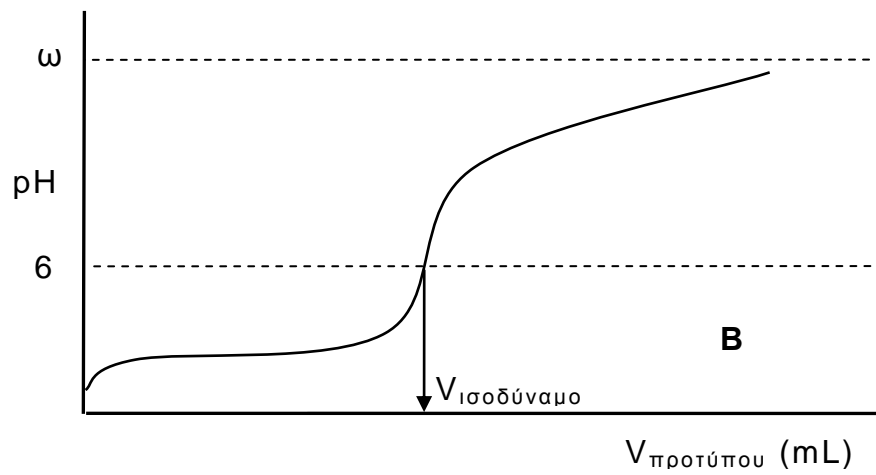
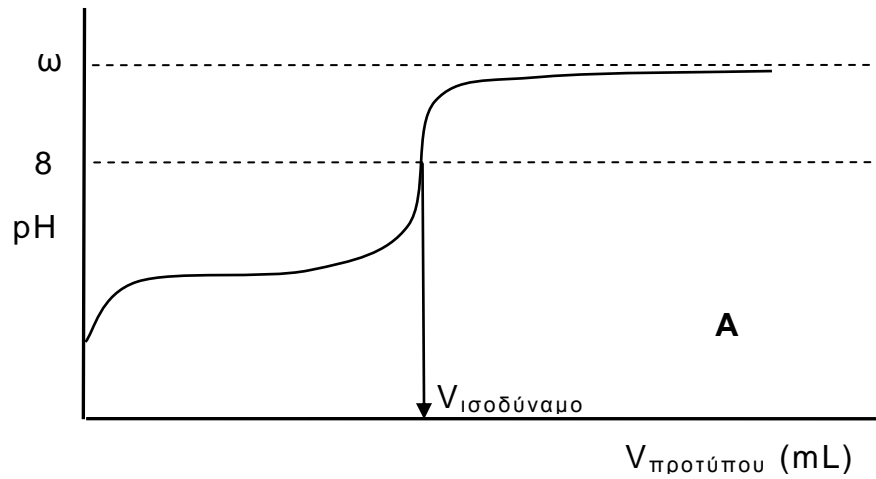


- α. Να γραφούν οι ηλεκτρονιακές δομές των τεσσάρων χημικών στοιχείων. (μονάδες 4)
- β. Να συγκριθούν τα στοιχεία της ίδιας περιόδου ως προς το μέγεθος (μονάδα 1) και να αιτιολογήσετε την απάντησή σας. (μονάδες 2)
- γ. Να συγκριθούν τα στοιχεία της ίδιας ομάδας ως προς την ενέργεια πρώτου ιοντισμού (μονάδα 1) και να αιτιολογήσετε την απάντησή σας. (μονάδες 2)

**Μονάδες 10**

ΑΡΧΗ 3ΗΣ ΣΕΛΙΔΑΣ Γ΄ ΗΜΕΡΗΣΙΩΝ & Λ΄ ΕΣΠΕΡΙΝΩΝ

**B3.** Δίνονται οι παρακάτω καμπύλες τιτλοδότησης μονοπρωτικού οξέος με πρότυπο διάλυμα NaOH  $10^{-3}$  M:



- Εξηγήστε ποια από τις τρεις καμπύλες είναι λανθασμένη. (μονάδες 2)
- Εξηγήστε ποια από τις τρεις καμπύλες αντιστοιχεί στην τιτλοδότηση ενός ασθενούς οξέος. (μονάδες 2)
- Υπολογίστε την τιμή του  $\omega$  στους  $25^\circ\text{C}$ . (μονάδες 3)

**Μονάδες 7**

**ΘΕΜΑ Γ**

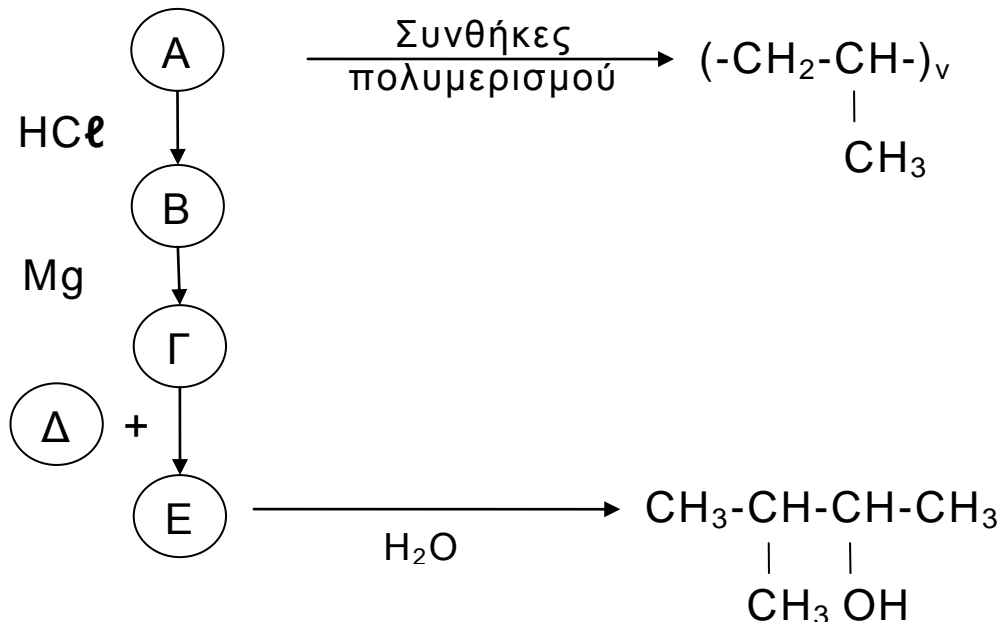
**Γ1.** Αέριος υδρογονάνθρακας Υ με γενικό τύπο  $C_nH_{2n-2}$  αντιδρά με Na και παράγεται αέριο. Ποσότητα 12 g του υδρογονάνθρακα Υ αναμιγνύεται με 11,2 L  $H_2$  σε (STP), παρουσία Ni σε κλειστό δοχείο αντίδρασης (αυτόκλειστο) και θερμαίνεται. Μετά το τέλος της αντίδρασης προκύπτει αέριο μίγμα δύο υδρογονανθράκων, το οποίο δεν μπορεί να αντιδράσει με αμμωνιακό διάλυμα CuCl. Η μισή ποσότητα του μίγματος των δύο υδρογονανθράκων μπορεί να αποχρωματίσει 250 mL διαλύματος  $Br_2$  0,2 M (διαλύτης  $CCl_4$ ).

Να προσδιορισθούν

- α. ο συντακτικός τύπος του υδρογονάνθρακα Υ. (μονάδες 7)
- β. η ποιοτική και ποσοτική (σε mol) σύσταση του αερίου μίγματος που προκύπτει από την αντίδραση υδρογόνωσης. (μονάδες 4)
- και
- γ. να γραφούν οι χημικές εξισώσεις των αντιδράσεων που λαμβάνουν χώρα. (μονάδες 4)
- Μονάδες 15**

Δίνεται ότι Αr: H=1, C=12.

**Γ2.** Δίνονται οι παρακάτω αντιδράσεις:

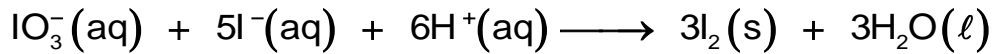


Να γράψετε τους συντακτικούς τύπους των οργανικών ενώσεων Α, Β, Γ, Δ και Ε της ανωτέρω σειράς αντιδράσεων.

**Μονάδες 10**

**ΘΕΜΑ Δ**

Μία από τις πλέον δημοφιλείς εργαστηριακές ασκήσεις για τη διδασκαλία της χημικής κινητικής περιλαμβάνει την αντίδραση:



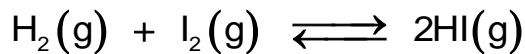
- Δ1. α.** Ποιο είναι το οξειδωτικό και ποιο το αναγωγικό σώμα; (μονάδες 2)  
**β.** Να αιτιολογήσετε την απάντησή σας αναφέροντας τις αντίστοιχες μεταβολές των αριθμών οξείδωσης. (μονάδες 2)

**Μονάδες 4**

- Δ2.** Η παραπάνω αντίδραση πραγματοποιείται σε ρυθμιστικό διάλυμα  $\text{CH}_3\text{COOH}/\text{CH}_3\text{COONa}$  με  $\text{pH} = 5$ . Για να παρασκευαστεί το διάλυμα αυτό, εργαζόμαστε ως εξής: σε 100 mL διαλύματος  $\text{CH}_3\text{COOH}$  24% w/v προσθέτουμε στερεό  $\text{CH}_3\text{COONa}$  και το διάλυμα αραιώνεται με νερό μέχρι τελικού όγκου 500 mL. Να υπολογίσετε τα γραμμάρια  $\text{CH}_3\text{COONa}$  που απαιτούνται. Δίνεται για το  $\text{CH}_3\text{COOH}$  ότι  $K_a = 10^{-5}$ .

**Μονάδες 5**

- Δ3.** Το ίζημα από την αντίδραση του ερωτήματος Δ1 εκπλύνεται με νερό και ξηραίνεται. 0,01 mol από το ξηρό ίζημα εισάγεται σε δοχείο όγκου V και θερμοκρασίας  $\theta$  °C, που περιέχει ισομοριακή ποσότητα  $\text{H}_2$ . Στη θερμοκρασία αυτή το στερεό εξαχνώνεται και αποκαθίσταται η ισορροπία



με απόδοση 50%. Να υπολογίσετε πόσα επιπλέον mol  $\text{I}_2$  πρέπει να προστεθούν στο δοχείο, χωρίς μεταβολή της θερμοκρασίας και του όγκου, ώστε η απόδοση της αντίδρασης να γίνει 80%.

**Μονάδες 6**

- Δ4.** Αύξηση της απόδοσης της αντίδρασης του ερωτήματος Δ3 επιτυγχάνεται επίσης με αύξηση της θερμοκρασίας.  
**α.** Να αιτιολογήσετε αν η αντίδραση είναι εξώθερμη ή ενδόθερμη. (μονάδα 1)  
**β.** Να εξηγήσετε πώς θα μεταβληθεί η σταθερά ισορροπίας  $K_c$  με την μεταβολή της θερμοκρασίας. (μονάδα 1)  
**γ.** Να εξηγήσετε πώς επηρεάζεται η απόδοση της αντίδρασης με μείωση του όγκου του δοχείου στο μισό, υπό σταθερή θερμοκρασία. (μονάδες 2)

**Μονάδες 4**

- Δ5.** Πόσα mL διαλύματος  $\text{NH}_3$  0,1 M απαιτούνται για την πλήρη εξουδετέρωση του HI που παρήχθη στην αντίδραση  $\text{H}_2(\text{g}) + \text{I}_2(\text{g}) \rightleftharpoons 2\text{HI}(\text{g})$ , όταν η απόδοση ήταν 80%. Να υπολογίσετε το pH του τελικού διαλύματος. Δίνεται για την  $\text{NH}_3$  ότι  $K_b = 10^{-5}$ . Ο όγκος του διαλύματος μετά την εξουδετέρωση ισούται με τον αρχικό όγκο του διαλύματος  $\text{NH}_3$ .

**Μονάδες 6**

Δίνεται ότι:

## ΑΡΧΗ 6ΗΣ ΣΕΛΙΔΑΣ Γ΄ ΗΜΕΡΗΣΙΩΝ & Λ΄ ΕΣΠΕΡΙΝΩΝ

- Όλα τα διαλύματα είναι υδατικά.
- Όλα τα διαλύματα βρίσκονται σε θερμοκρασία  $\theta = 25\text{ }^{\circ}\text{C}$ , εκτός αν καθορίζεται διαφορετικά στην εκφώνηση.
- $K_w = 10^{-14}$ .
- Τα δεδομένα του θέματος  $\Delta$  επιτρέπουν τις γνωστές προσεγγίσεις.
- Ατ: H=1, C=12, O=16, Na=23.

### **ΟΔΗΓΙΕΣ ΓΙΑ ΤΟΥΣ ΕΞΕΤΑΖΟΜΕΝΟΥΣ**

1. Στο τετράδιο να γράψετε μόνο τα προκαταρκτικά (ημερομηνία, εξεταζόμενο μάθημα). Να μην αντιγράψετε τα θέματα στο τετράδιο.
2. Να γράψετε το ονοματεπώνυμό σας στο πάνω μέρος των φωτοαντιγράφων αμέσως μόλις σας παραδοθούν. Τυχόν σημειώσεις σας πάνω στα θέματα δεν θα βαθμολογηθούν σε καμία περίπτωση. Κατά την αποχώρησή σας να παραδώσετε μαζί με το τετράδιο και τα φωτοαντίγραφα.
3. Να απαντήσετε **στο τετράδιό σας** σε όλα τα θέματα.
4. Να γράψετε τις απαντήσεις σας μόνο με μπλε ή μόνο με μαύρο στυλό ανεξίτηλης μελάνης.
5. Κάθε απάντηση επιστημονικά τεκμηριωμένη είναι αποδεκτή.
6. Διάρκεια εξέτασης: τρεις (3) ώρες μετά τη διανομή των φωτοαντιγράφων.
7. Χρόνος δυνατής αποχώρησης: 17:00.

**ΣΑΣ ΕΥΧΟΜΑΣΤΕ ΚΑΛΗ ΕΠΙΤΥΧΙΑ**

**ΤΕΛΟΣ ΜΗΝΥΜΑΤΟΣ**

**ΤΕΛΟΣ 6ΗΣ ΑΠΟ 6 ΣΕΛΙΔΕΣ**